

NEW

අධ්‍යාපන අමාත්‍යාංශය

44 S I, II

අධ්‍යාපන පොදු සහතික පත්‍ර (සාමාන්‍ය පෙළ) විභාගය 2018 දෙසැම්බර් (ආදර්ශ පෙරහුරු ප්‍රශ්න පත්‍ර)

නැවුම් (දේශීය)

පැය තුනයි

නැවුම් (දේශීය)

විශේෂ උපදෙස්

සියළුම අයදුම් කරුවන් I කොටසේ ප්‍රශ්න 30 ට ම පිළිතුරු සැපයිය යුතුය. එයට අමතරව II උඩරට නර්තනය, III පහතරට නර්තනය හෝ IV සබරගමු නර්තනය යන කොටස් තුනෙන් එක් කොටසකට පමණක් පිළිතුරු සැපයිය යුතුය.

II , III හා IV කොටස් වලින් කලවමේ ප්‍රශ්න තෝරා නොගත යුතුය. ඔබ පිළිතුරු සපයන්නේ කුමන කොටසටදැයි පිළිතුරු පත්‍රයේ පැහැදිලිව ලියා දැක්විය යුතුය.

සැලකිය යුතුයි

සියළුම ප්‍රශ්නවලට පිළිතුරු සපයන්න.

අ-ක 1 සිට 40 තෙක් ප්‍රශ්නවල දී ඇති (1),(2),(3),(4) පිළිතුරු වලින් නිවැරදි හෝ වඩාත් ගැලපෙන හෝ පිළිතුරු තෝරාගන්න.

ඔබට සැපයෙන පිළිතුරු පත්‍රයේ එක් එක් ප්‍රශ්නය සඳහා දී ඇති කව අතුරෙන් ඔබ තෝරා ගත් පිළිතුරෙහි අංකයට සැසඳෙන කවය තුළ (X) ලකුණ යොදන්න.

01 උඩරට පහතරට හා සබරගමු නර්තන සම්ප්‍රදායන්ට අයත් මූලික සරසි අභ්‍යන්තර වන්නේ

- 01. පාසරම හා ඉලංගම් සරසි
- 02. පාසරම හා දොම්නා පද
- 03. පාසරම හා මන්ඩි පද
- 04. ඉලංගම් සරසි හා දොම්නා පද

02. "රටකට මවු සමඟින් නැවතැග යන කළ අප මුහුදුන්" මෙම කවි පද කොටස.....භාෂණය අයත් වේ

- 01. මල් යහන් කවි
- 02. සවරා කවි
- 03. රබන් කවි
- 04. චාමර කවි

03. මහනුවර යුගයේ ප්‍රශස්තී කාව්‍ය භාෂණය කරන ලද්දේ

- 01. භාන්ති කර්ම මධුමවදී ය
- 02. දළදා මළුවෙහි ය
- 03. මහල් මධුමවදී ය
- 04. කවිකාර මධුමවදී ය

04. උඩරට , පහතරට හා සබරගමු යන නර්තන සම්ප්‍රදායන් තුනෙහිම ප්‍රධාන ඝාන්තිකර්ම වල දක්නට ලැබෙන නර්තන අංගයක් වන්නේ.

- 01. හන් පදය
- 02. යන්තුවපදය
- 03. පන්තිනි පද
- 04. කොලොන්නා පද

05. දළදා කරඬුව මාලිගාව තුළට වැඩමවීමේ දී .....වාදනය කරයි.

- 01. අශිරා හේරියි
- 02. ගෙවැදුම් හේරියි
- 03. හැන්දෑ ධුරය
- 03. අළුයම් ධුරය

06. ප්‍රභූජයා නැමති ස්ථායී භාවය තුළින් උපදින රසය වනුයේ

- 01. බීහත්ත රසය යි
- 02. ශා-ශාර රසය යි
- 03. අත්භූත රසය යි
- 04. හයානක රසය යි

07. වෙදිකා නාට්‍යයක වර්ත ස්වභාවය තීව්‍ර කිරීමට වඩාත් උචිත වන්නේ.

- 01. මෙවලම් භාවිතය
- 02. අංගචනය
- 03. පසුබිම් වාදනය
- 04. පසුතල නිර්මාණය

08. පණ්ඩුකාභය රජු ඉදිරියේ දෙවමිනිස් නැටුම් පැවැත්වූ බව ..... සඳහන් වේ.

- 01. මහා වංශයේ
- 02. දුල වංශයේ
- 03. දීප වංශයේ
- 04. මබ්බි වංශයේ

09. කොහොඹා කංකාරිය හා සමාජය , හෙළ ගී මග යන කෘතීන් රචනා කර ඇත්තේ

- 01. ජේ.ටී. සේදරමන් මහතා හා ඩබ්.ඩී. මකුලොඵව මහතා ය.
- 02. ඤාණසිරි පිරිස් මහතා හා ජේ.ටී. සේදරමන් මහතා ය.
- 03. මුදියන්සේ දිසානායක මහතා හා ඩබ්.ඩී. මකුලොඵව මහතා ය.
- 04. ආනන්ද ජයසිංහ මහතා හා හේජා ඉනවර්ධන මහතා ය.

10. "හනික වරෙවි කොල්ලනේ ගීතය" ඇතුළත් වනුයේ

- 01. දයානන්ද ඉණවර්ධනයන්ගේ නිරිඛානා නාට්‍යයේ ය.
- 02. බන්දුල ජයවර්ධනයන්ගේ බෙර හඬ නාට්‍යයේ ය.
- 03. වාල්ස් ඩයස් ඉරික්කේ විදුර නාට්‍යයේ ය.
- 04. බන්දුල ඉණවර්ධනයන්ගේ බෙර හඬ නාට්‍යයේ ය.

11. මෙම ඡායාරූපයෙන් දැක්වෙන ප්‍රවීණ නර්තන ශිල්පිනිය වන්නේ



- 01. සෝමලතා සුභසිංහ මහත්මිය ය.
- 02. වජිරා වික්‍රමේක මහත්මිය ය.
- 03. මීරන්ධා හේමලතා මහත්මිය ය.
- 04. ලලිතා සරත්චන්ද්‍ර මහත්මිය ය.

12. සකපෝරුව නම් උපකරණය භාවිතයට ගනු ලබන්නේ..... සඳහාය.

- 01. කෘෂි කර්මාන්තය
- 02. මැටි කර්මාන්තය
- 03. ධීවර කර්මාන්තය
- 04. පතල් කර්මාන්තය

13. A ,A , / මෙම තාල සංඥා පිළිවෙලින් හඳුන්වන්නේ

- 01 තෙයි, තෙයි, තිත් ලෙසය.
- 02 තිත් ,තෙයි, තෙයි, ලෙසය.
- 03 තිත්, තිත්, තෙයි ලෙසය.
- 04 තෙයි, තිත්, තෙයි ලෙසය.

14. සෑම වර්තයක්ම වෙස් මුහුණු පැළඳ රඟ මඩලට පැමිණෙයි, පිරිමි පමණක්ම වර්ත නිරූපණයේ යෙදෙයි, මේ ඉණාංග වලින් යුත් ප්‍රධාන ජන නාටකයකි.

- 01. ශෝලම
- 02. නාඩගම
- 03. නූර්ති
- 04. යොකරි

15. බුද්ධං සරණේ සිරිස දරාගෙන මෙම ගී පදයේ සඳැස්මක් හා ගීමක් ගණන පිළිවෙලින්

- 01. මාත්‍රා 14, 21
- 02. මාත්‍රා 16, 21
- 03. මාත්‍රා 14, 24
- 04. මාත්‍රා 16, 24

16. තුර්ය භාණ්ඩ වර්ගීකරණයේ දී එකැස්මෙරය අයත් වනුයේ

- 01 ආතත වර්ගයට ය
- 02 චිතත වර්ගයට ය
- 03 චිතතාතත වර්ගයට ය
- 04 සන වර්ගයට ය

17. සම්ප්‍රදායත්‍රයෙහිම ප්‍රධාන ශාන්තිකර්ම පැවැත්වීමේ දී ප්‍රථමයෙන්ම කරන පූර්ව වාරිත්‍රය වනුයේ

- 01. කප් සිටුවීම
- 02. මඩු පේ කිරීම
- 03. හඟල පේ කිරීම
- 04. දෙවියන් වැඩමවීම

18. නර්තන අංගයක් නරඹන විගසම කිනම් සම්ප්‍රදායට අයත් දැයි පහසුවෙන්ම හඳුනාගත හැකි වන්නේ

- 01. ගායනා , වාද්‍ය භාණ්ඩ හස්ත වලන මගින්
- 02. හස්ත වලන , රංග වස්ත්‍රාභරණ , වාද්‍ය භාණ්ඩ මගින්
- 03. හස්ත වලන ,ගායනා, වේෂ නිරූපණය මගින්
- 04. රංග වස්ත්‍රාභරණ ,ගායනා , වේෂ නිරූපණය මගින්

19. මේරුන් විරාජිත සමන් ..... යන ගායනය

- 01. ග්‍රහපන්තියකි
- 02. සිරස පාදයකි
- 03. නමස්කාරයකි
- 04. ශ්ලෝකයකි

**20 සිට 23 තෙක් ප්‍රශ්නවලට පිලිතුරු ලිවීමට පහත වගුව භාවිතා කරන්න**

	නිල් තීරුව	කහ තීරුව	රතු තීරුව	කොළ තීරුව
A ඡේදය	කොහොඹා දෙවි	වීරමුණ්ඩ දෙවි	දෙවොල් දෙවි	පත්තිනි දෙවි
B ඡේදය	සේරමන් රජු	විජය රජු	පඩුවස් දෙවි රජු	කුවේණිය
C ඡේදය	දවුල	භාරණුව	තම්මාට්ටම	ගැටබෙරය
D ඡේදය	දඩු බෙරය	තාලම්පට	රබාන	බටනලාව

20. හේවිසි වාදනයේදී යොදාගන්නා අවනද්ධ භාණ්ඩ දෙක වන්නේ

- 01. නිල් හා කොළ තීරු C ඡේදය
- 02. නිල් හා රතු තීරු C ඡේදය
- 03. රතු හා කොළ තීරු C ඡේදය
- 04. කහ හා කොළ තීරු C ඡේදය

21. උඩරට හා පහතරට ශාන්ති කර්මවල ප්‍රධාන වශයෙන් පුද ලබන දෙවිවරු පිළිවෙලින් සඳහන් වන්නේ.

- 01. නිල් හා කොළ තීරුවල A ඡේදයේ ය.
- 02. නිල් හා කහ තීරුවල B ඡේදයේ ය.
- 03. නිල් හා කහ තීරුවල A ඡේදයේ ය.
- 04. රතු හා කොළ තීරුවල A ඡේදයේ ය.

22. චිත්තානන භාණ්ඩයක් හා දේශීය සුසිර භාණ්ඩයක් ඇතුළත් වන්නේ

- 01. නිල් හා කහ තීරුවල C ඡේදයේ ය.
- 02. නිල් හා කොළ තීරුවල D ඡේදයේ ය.
- 03. නිල් හා රතු තීරුවල D ඡේදයේ ය.
- 04. කහ හා රතු තීරුවල D ඡේදයේ ය.

23. දේශීය ප්‍රධාන නර්තන සම්ප්‍රදායන් දෙකක ප්‍රධාන වාද්‍ය භාණ්ඩ දැක්වෙන්නේ

- 01. නිල් හා රතු තීරුවල C ඡේදයේ ය
- 02. නිල් හා කොළ තීරුවල C ඡේදයේ ය
- 03. කහ හා රතු තීරුවල D ඡේදයේ ය.
- 04. රතු හා කොළ තීරුවල C ඡේදයේ ය

24. අංග රචනයේදී මුහුණ බෙදනු ලබන කලාප ගණන වන්නේ

- 01. 6 කි
- 02. 7 කි
- 03. 8කි
- 03. 9කි

25. මෙම රූපයෙන් දැක්වෙන්නේ



- 01. මාදංග වාදන අවස්ථාවකි.
- 02. වෙන්ගිලම් වාදන අවස්ථාවකි.
- 03. දවුල් වාදන අවස්ථාවකි.
- 04. වෙන්ඩා වාදන අවස්ථාවකි.

26. කථකලී නර්තනයේදී පිරිමින් විසින් ස්ත්‍රී වර්ත නිරූපනය කිරීම .....ලෙස හඳුන්වයි.

01. කුමම් ආටටම්

02. ත්‍රිශ්ණාටටම්

02. කුඩි ආටටම්

03. වක්කියාර් කුකු

ප්‍රශ්න අංක 27 හා 28 සඳහා පහත රූප සටහන් ඇසුරින් පිළිතුරු සපයන්න



A



B



C



D

27. B රූපයෙන් දැක්වෙන නර්තන සම්ප්‍රදාය වනුයේ

01. කහක්

02. හරත

03. මනිසුරි

04. කථකලී

28. දක්ෂිණ භාරතයේ ශෝරල ප්‍රාන්තයේ ප්‍රචලිත නර්තන සම්ප්‍රදාය දැක්වෙන්නේ.

01. A රූපයෙන්

02. B රූපයෙන්

03. C රූපයෙන්

04. D රූපයෙන්

29.



ඉහත ඇඳුම් ආයිත්තම් අයත් නර්තන සම්ප්‍රදායන් පිළිවෙළින්.

01. උඩරට නර්තන සම්ප්‍රදාය, පහතරට නර්තන සම්ප්‍රදාය, සබරගමු නර්තන සම්ප්‍රදාය

02. පහතරට නර්තන සම්ප්‍රදාය, උඩරට නර්තන සම්ප්‍රදාය, සබරගමු නර්තන සම්ප්‍රදාය

03. සබරගමු නර්තන සම්ප්‍රදාය, පහතරට නර්තන සම්ප්‍රදාය, උඩරට නර්තන සම්ප්‍රදාය

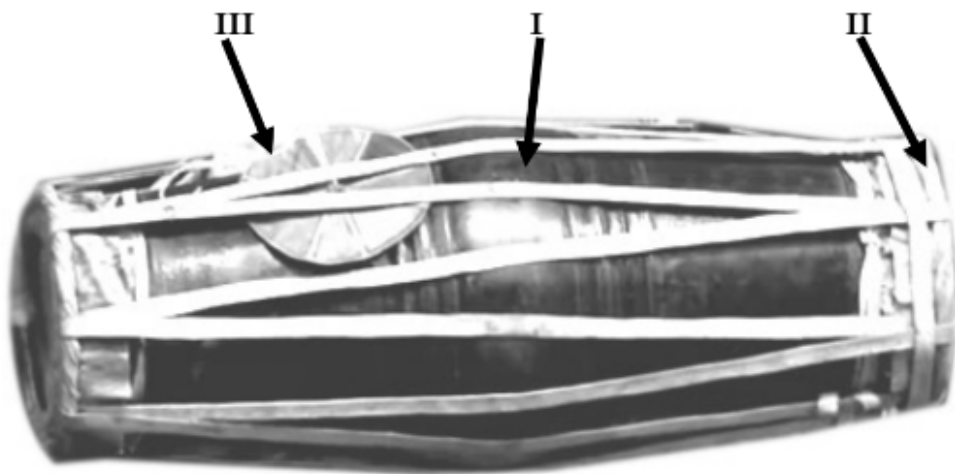
04. පහතරට නර්තන සම්ප්‍රදාය, සබරගමු නර්තන සම්ප්‍රදාය, උඩරට නර්තන සම්ප්‍රදාය

30 කරදිය මුද්‍රා නාට්‍යයේ රංග රචනය හා සංගීත නිර්මාණ කරුවන් වන්නේ

- 01. ලයනල් අල්ගම මහතා හා මහින්ද ඩයස් මහතා ය.
- 02. වික්‍රමේන් ඩයස් මහතා හා ඩබ්.ඩී. අමරදේව මහතා ය.
- 03. වික්‍රමේන් ඩයස් මහතා හා ඩබ්.ඩී. මකුලොච්ච මහතා ය.
- 04. සෝමබන්දු විද්‍යාපති මහතා හා ලයනල් අල්ගම මහතා ය.

• II කොටස උඩරට නර්තන.

31 මෙම රූපයේ පිළිවෙලින් I, II, III අංක වලින් දැක්වෙන්නේ



- 01. වෙනිවර කැඳල්ල , වරපට, සුරත්තවටුව
- 02. බෙරපුහුල , වරපට, සුරත්තවටුව
- 03. බෙරපුහුල , වෙනිවර කැඳල්ල, සුරත්තවටුව
- 04. බෙරපුහුල ,ගිගිරි වලල්ල, වෙනිවර කැඳල්ල

32. කොහොඹා කංකාරී ශාන්තිකර්මයට අයත් නාට්‍යමය පෙළපාලි අංග වන්නේ

- 01. නයා යක්කම,අසුර යක්කම
- 02. යක්කම පහ, ගුරුගේ මාලාව
- 03. දාන පහ ,ගුරුගේ මාලාව
- 04. කතා පහ ,නයා යක්කම

33. තත් තකට තකරොං..... තකරොං ගජිං ජිකුදු .....කුංදත් ජිකරොං

මෙහි හිස්තැනට ගැලපෙන පද කොටස් ඇතුළත් වරණය තෝරන්න.

- 01. තක්කඩ තක්කඩ - දොං තරිකිට
- 02. තක්කඩ කුදු - ගත්තරිකිට

03. කිත්තන් කිට්තක - දොමන දොමන ගත

04. ගුහිති ගදිරිකිට - තකදිත් තක දොම

34. 12/1234 තාල රූපයට අදාල පහතරට බෙරපදය වන්නේ

01. ගුං දෙගත ගත්ත ගුම

02. රෙගුම ගුදග් ගත් දෙගත් ගතකු දොම

03. ගුං දෙගත ගත්ත ගුම

04. දොමතම ගත ගදිතමගත ගුගුදංගත ගුදිතං

35. පහතරට බෙරයේ සම්මත දිග වන්නේ

01. එක් වියන් තුනභුලකි

02. තුන් වියන් තුනභුලකි

03. සිවු වියතකි

04. විග්ගස්සකි

36. දෙවොල්මඩු ශාන්ති කර්මයේ පුද ලබන දෙව්වරුන් සඳහන් පිළිතුර තෝරන්න.

01. දැඩිමුණ්ඩ දෙවියන් ,සමන් දෙවියන්

02. පත්තිනි දෙවියන්, කොහොඹා දෙවියන්

03. වීරමුණ්ඩ දෙවියන් ,සමන් දෙවියන්

04. පත්තිනි දෙවියන්, දෙවොල් දෙවියන්

37. ගුද ගති ගත වට්ටම නටනු ලබන්නේ

01. මාත්‍රා 2+4 තාල රූපයටය

02. මාත්‍රා 2+2+4 තාල රූපයටය

03. මාත්‍රා 2+2 තාල රූපයටය

04. මාත්‍රා 3+3 තාල රූපයටය

38. පහතරට නර්තනයේ පමණක් භාවිතා කරනු ලබන වචන වන්නේ

01. ඉරට්ටිය,අන්තාඩිය

02. මාත්‍රා පාසරඹ

03. ඉරට්ටිය හා ගොඩ සරඹ

04. සුරල කස්තීරම

39. A. පහතරට බෙරය 1. බලි ගායනය

B. ගුරුභාමි 2. වෙනිවර කැරැල්ල

C. පත්තිනි 3. සොකරි

D. ආතුරයා 04. පාලභ කුමරු

ඉහත ඉංග්‍රීසි අක්ෂර වලින් දැක්වෙන වචන වලට සුදුසුම අංකය සහිත වචනය ගැලපූ විට නිවැරදි පිළිතුර වන්නේ

D. ආතුරයා

04. සොකර්

ඉහත ඉංග්‍රීසි අක්ෂර වලින් දැක්වෙන වචන වලට සුදුසුම අංකය සහිත වචනය ගැලපූ විට නිවැරදි පිළිතුර වන්නේ

01. A - 1      B - 2      C - 3      D - 4

02. A - 2      B - 4      C - 3      D - 1

03. A - 2      B - 3      C - 1      D - 4

04. D - 4      C - 3      B - 2      A - 1

40. පානා යසසින් සිරිපිරි මෙහි ඊලඟ කවි පදය වන්නේ

01. කුළුණෙන් හිඳ වාරාඩ්

02. ලෙස නිරතුරු විවාඩ්

03. මේවන්නම දනු විරාඩ්

04. යසසින් නෙක වාරාඩ්



ඉහත ඉංග්‍රීසි අක්ෂර වලින් දැක්වෙන වචන වලට සුදුසුම අංකය සහිත වචනය ගැලපූ විට නිවැරදි පිළිතුර වන්නේ


- 01. A - 1      B - 2      C - 3      D - 4
- 02. A - 2      B - 3      C - 4      D - 1
- 03. A - 2      B - 4      C - 3      D - 1
- 04. D - 4      C - 3      B - 2      A - 1

40. "ගසමින් කගපනින් දෙපළුව අසුරසෙන්" මෙහි ඊළඟ කවි පදය වන්නේ

- 01. දැරූපා අතළුවෙන් - පළදෙක ගෙන සැනෙකින්
- 02. එමවන් පළවකින් - එවුපන් සැනෙකින්
- 03. අසුරන් කළ යුදෙන් - ජය ගෙන කද කුමරුන්
- 04. සැවුලා නම එයින් -ලොව පළකළ උපනින්

• IIIකොටස පහතරට නර්තන.

31. මෙම රූපයේ පිළිවෙලින් I, II, III අංක වලින් දැක්වෙන්නේ



- 01. වෙනිවර කැරැල්ල, කැපුම් හම,වරපටි
- 02. බෙර ඇස ,හැක්ම, බෙරලණුව
- 03. බෙර ඇස, වෙනිවර කැරැල්ල, වරපටි
- 04. කැපුම් හම,වරපටි, බෙර ඇස

32. දෙවොල්මඩු ශාන්තිකර්මයට අයත් නාට්‍යමය පෙළපාලි අංග වන්නේ

- 01. ඇත් බන්ධනය, හත්පදය
- 02. දෙවොල් ගොඩ බැසීම, අඹ විදමන
- 03. යහන් දැක්ම, දෙවොල්
- 04. හත්පදය, අඹ විදමන

33. තකදින් තකදොම .....තරිගත දිගුදො..... තකතත් ගුහිති ගදිරිකිට ත

- 01. තරගත දිගුදො - ගුහිති ගදිරිකිට
- 02. දොමිත දොමිත ගත - කිත්තත් කිටිතක

- 03. තක්කඩ තක්කඩ කුඳ - කිට්තකට
- 04. තක්කඩ ජික්කඩ කුඳ - තරිකිට

34. 12/1234 තාල රූපයට අදාල උඩරට බෙර පදය වන්නේ

- 01. දෝං ජිං ජිං තකට දොම් තක
- 02. දොං ජිංත ගත දොංත
- 03. දොංතකු දොං ජිං ගත්තත් ජික්කුඳ
- 04. දොං දොං ජිං ජිං ගජිගත

35. උඩරට බෙරයේ සම්මත දිග වන්නේ

- |                        |                         |
|------------------------|-------------------------|
| 01. එක් වියත් තුනභූලකි | 02. තුන් වියත් තුනභූලකි |
| 03. සිවු වියතකි        | 04. විග්ගස්සකි          |

36. කොහොඹා කංකාරියේ පුද ලබන දෙව්වරුන් සඳහන් පිළිතුර තෝරන්න.

- 01. දැඩිමුණ්ඩ දෙවියන් හා සමන් දෙවියන්
- 02. දෙවොල් දෙවියන් හා වීරමුණ්ඩ දෙවියන්
- 03. කන්දේ බණ්ඩාර දෙවියන් හා සමන් දෙවියන්
- 04. මහ කොහොඹා දෙවියන් හා වීරමුණ්ඩ දෙවියන්

37. කුදාංත ගත දොම් වට්ටම නටනු ලබන්නේ

- |                              |                              |
|------------------------------|------------------------------|
| 01. මාත්‍රා 2+4 තාල රූපයටය   | 02. මාත්‍රා 2+2+4 තාල රූපයටය |
| 03. මාත්‍රා 2+2+3 තාල රූපයටය | 04. මාත්‍රා 3+3තාල රූපයටය    |

38. උඩරට නර්තනයේ පමණක් භාවිතා කරනු ලබන වචන වන්නේ

- 01. කුවෙන අස්න, දුනුමාලස්පුව,කොහොඹා හැල්ල
- 02. ආවැන්දුම,කෝල්පාඩුව,කොතල පදය
- 03. යක් ඇනුම, දුනු මාලස්පුව,මඩු පේකිරීම
- 04. ආවැන්දුම,ඌරුදානය, කොතල පදය

- |                  |                |
|------------------|----------------|
| 39. A. උඩරට බෙරය | 1. බලි ගායනය   |
| B. ගුරුහාමි      | 2. සුරත්තට්ටුව |
| C. අස්නේ         | 3. සොකරි       |
| D. ආතුරයා        | 04. කුවෙනි     |


01. A - 1      B - 2      C - 3      D - 4  
 02. A - 2      B - 3      C - 4      D - 1  
 03. A - 2      B - 4      C - 3      D - 1  
 04. D - 4      C - 3      B - 2      A - 1

40. සඳ සන්දර දිගු සුන්දර දිගු සුන්දර මෙහි ඊලඟ කවි පදය වන්නේ

01. සැහවී මෙර යටටා  
 02. අදහාගා ලෙසටා  
 03. දිල්මං ඔබ යසටා  
 04. සෙත දෙත් සවු සතටා

• IV කොටස සබරගමු නර්තන.

31 මෙම රූපයේ පිළිවෙලින් I, II, III අංක වලින් දැක්වෙන්නේ



01. වරපටි , ඉල්ලම් මුදු, ගැටිය  
 02. දවුල් තට්ටුව , වරපටි, ඉල්ලම් මුදු  
 03. දවුල් තට්ටුව , වරපටි, ඉල්ලම් මුදු  
 04. ඉල්ලම් මුදු , ගැටිය, දවුල් තට්ටුව

32. පහත මඩුව ශාන්තිකර්මයට අයත් නාට්‍යමය පෙළපාලි අංග වන්නේ

01. මී බන්ධනය, හත් පදය  
 02. දෙවොල් ගොඩබැසීම, අඹ විදමන  
 03. යහන් දැක්ම , දෙවොල්  
 04. හත් පදය, අඹ විදමන

33. ජීව ගතත්..... ගදින .....තත් තිත් තත්

මෙහි හිස්තැනට ගැලපෙන පද කොටස් ඇතුළත් වරණය තෝරන්න.

- 05. තකට - ගතත්
- 06. කිත්තත් - කුඳ තා
- 07. තත්කුඳ ගත - කුඳිත්
- 08. කුඳිත් - තත් තත් කුඳ ගත

34. 12/1234 තාල රූපයට අදාල සබරගමු දවුල් පදය වන්නේ

- 01. ජීං කිටිතක් තක් කිටි තක
- 02. කුඳත කුඳා තක
- 03. ජීං තක්කට තකට කුඳත්
- 04. කුඳත් තක්කට තකට ජීංතක

35. උඩරට බෙරයේ සම්මත දිග වන්නේ

- 01. අඟල් 26 කි
- 02. අඟල් 24 කි
- 03. අඟල් 27 කි
- 04. අඟල් 12 කි

36. පහන් මඩු ශාන්ති කර්මයේ පුද ලබන දෙව්වරුන් සඳහන් පිළිතුර තෝරන්න.

- 01. දැඩිමුණ්ඩ දෙවියන් හා කොහොඹා දෙවියන්
- 02. පත්තිනි දෙවියන් හා වීරමුණ්ඩ දෙවියන්
- 03. කොහොඹා දෙවියන් හා පත්තිනි දෙවියන්
- 04. පත්තිනි දෙවියන් හා සමන් දෙවියන්

37. පට්ටු තාල් මාත්‍රය නටනු ලබන්නේ

- 01. මාත්‍රා 2+4 තාල රූපයටය
- 02. මාත්‍රා 2+2+4 තාල රූපයටය
- 03. මාත්‍රා 3+ 2+2තාල රූපයටය
- 04. මාත්‍රා 3+3තාල රූපයටය

38. සබරගමු නර්තනයේ පමණක් භාවිතා කරනු ලබන වචන වන්නේ

- 01. කලාසම, දවුල් පදය
- 02. කස්තිරම, මාත්‍රා
- 03. අඩව්ව, සුරල
- 04. සුරල, කලාසම

- 39. A. දවුල
- B. ගුරුභාමි
- C. මුගුරුපද
- 1. බලි ගායනය
- 2. ඉල්ලම් මුදු
- 3. පහන්මඩුව